



1けた+1けたの

たしざん

なまえ

がつ

にち

- ① りんごを 3こ もっています。おともだちから 2こ もらいました。
りんごは ぜんぶで なんこ ありますか？



しき

+

=

こたえ

こ

- ② えんぴつを 4ほん かいました。おうちに 5ほん ありました。
えんぴつは ぜんぶで なんほん ありますか？



しき

+

=

こたえ

ほん

- ③ みかんが 1こ あります。のこっていた 6こ とあわせると、
みかんは ぜんぶで なんこ ありますか？



しき

+

=

こたえ

こ





1けた+1けたの

たしざん

なまえ

がつ

にち

- ① おはなを 5ほん かいました。おともだちが 3ほん くれました。
ぜんぶで おはな は なんほん ありますか？



しき

+ =

こたえ

ほん

- ② つくえのうえに 2さつのノートがあります。
ランドセルのなかに 4さつ あります。ノート は ぜんぶで
なんさつ ありますか？



しき

+ =

こたえ

さつ

- ③ さくらんぼを 3こ たべました。さらに 4こ たべました。
ぜんぶで なんこ たべましたか？



しき

+ =

こたえ

こ





1けた+1けたの

たしざん

なまえ

がつ

にち

- ① こうえんにおとこのこが6にん いました。あとから2にん きました。
いま こうえんになんにんのおとこのこがいますか？



しき

+ =

こたえ

にん

- ② うさぎが1ぴき います。おともだちが7ひき つれてきました。
うさぎは ぜんぶで なんびき いますか？



しき

+ =

こたえ

ひき

- ③ けしごむを4こ もっています。おみせで3こ かいしました。
いま なんこ けしごむ をもっていますか？



しき

+ =

こたえ

こ





1けた+1けたの

たしざん

なまえ

がつ

にち

- ① いちごを 5こ たべました。さらに 3こ たべました。
ぜんぶで なんこ たべました？



しき

$$+ =$$

こたえ

- ② さかなが 7ひき およいでいます。さらに 2ひき およぎに
きました。いま なんびき およいでいますか？



しき

$$+ =$$

こたえ

- ③ ぼうしを 6こ もっています。あたらしく 1こ もらいました。
ぼうしは ぜんぶで なんこ ありますか？



しき

$$+ =$$

こたえ





1けた+1けたの

たしざん

なまえ

がつ

にち

- ① おはなが 2ほん さいています。きょう 1ぽん さきました。
いま なんぼん さいていますか？



しき

+ =

こたえ

- ② どうぶつえんに 5とうの ぞうがいます。きの うしろに
2とう いました。ぞうは ぜんぶで なんとう いますか？



しき

+ =

こたえ

- ③ こうえんで おんなのこが 7にん あそんでいます。
あとから 3にん きました。いま こうえん に なんにん の
おんなのこが あそんでいますか？



しき

+ =

こたえ





- ① いぬが1ひき います。あとから2ひき きました。
いぬは ぜんぶで なんひき いますか？



しき

こたえ

- ② みかんを2こ もっています。おかあさんが6こ かってきました。
みかんは ぜんぶで なんこ ありますか？



しき

こたえ

- ③ おもちゃのくるまを4だい もっています。おじいちゃんが
2だい くれました。ぜんぶで なんだい もっていますか？



しき

こたえ





1けた+1けたの

たしざん

なまえ

がつ

にち

- ① ねこが4ひき ねています。そこに3ひき やってき
ました。いま ねこは なんひき いますか？



しき

こたえ


- ② ノートを1さつ かいました。おばあちゃんが4さつ
かってくれました。ぜんぶで なんさつ ありますか？



しき

こたえ

- ③ きょうしつに9にん のこどもがいます。あとから1にん
きました。いま きょうしつに なんにん いますか？



しき

こたえ





1けた+1けたの
たしざん

なまえ

がつ

にち

- ① いすが7こ あります。べつのへやから2こ もってきました。
いすは ぜんぶで なんこ ありますか？



しき

こたえ

- ② とりが2わ います。そこに2わ きました。
ぜんぶで なんわ いますか？



しき

こたえ

- ③ えんぴつを4ほん もっています。おにいちゃんが2ほん
くれました。いま なんほん ありますか？



しき

こたえ





1けた+1けたの

たしざん

なまえ

がつ

にち

- ① かばんのなかに3つのおべんとうがあります。おともだちにたのまれてさらに3ついれました。ぜんぶでなんこのおべんとうをもっていますか？



しき

こたえ

- ② おにぎりを7こつくりました。さらに2こつくりました。ぜんぶでなんこつくりましたか？



しき

こたえ

- ③ おさらのうえに2このクッキーがあります。おとうさんが3こくれました。ぜんぶでクッキーはなんこありますか？



しき

こたえ





1けた+1けたの

たしざん

なまえ

がつ

にち

① こうえんに 1だいのじてんしゃがとまっています。さらに 4だいとまりました。いま なんだいとまっていますか？



しき

こたえ

② はこに 2さつのほんがはいっています。べつのはこに 6さつあります。あわせて なんさつありますか？



しき

こたえ

③ さくらんぼを 7こ もっています。おともだちが 3こ くれました。ぜんぶで なんこありますか？



しき

こたえ





1けた+1けたの
たしざん

なまえ

がつ

にち

- ① いちごを4こもっています。おかあさんが5こくれました。
ぜんぶでなんこもっていますか？



しき

こたえ

- ② こうえんに3にんこどもがいました。あとから3にん
きました。いまなんにんのこどもがいますか？



しき

こたえ

- ③ くつしたを7そくもっています。おばあちゃんが2そく
かってくれました。ぜんぶでなんそくありますか？



しき

こたえ





1けた+1けたの
たしざん

なまえ

がつ

にち


- ① えんぴつを 2ほん かいました。ともだちから 5ほん もらいました。ぜんぶで なんほん ありますか？



しき

こたえ

- ② りんごが 5こ あります。おとうさんが 3こ かってきました。りんごは ぜんぶで なんこ ありますか？



しき

こたえ

- ③ とりが 2わ きにとまっています。あとから 3わ きました。ぜんぶで なんわの とりが とまっていますか？



しき

こたえ





1けた+1けたの
たしざん

なまえ

がつ

にち

- ① さかなを1ぴき つりました。さらに2ぴき つりました。
ぜんぶで なんぴき つりましたか？



しき

こたえ

- ② つくえのうえに3さつのほんがあります。あとから4さつ
ならべました。ぜんぶでなんさつならんでいますか？



しき

こたえ

- ③ バナナを3ほんもっています。おともだちが1ほん
くれました。ぜんぶでなんほんありますか？



しき

こたえ





1けた+1けたの

たしざん

なまえ

がつ

にち

- ① どうぶつえんで4とうのパンダがいます。きのうえに3とういました。パンダはあわせてなんとういますか？



しき

こたえ

- ② おさらのうえに4このあめがあります。おとうさんが2こくれました。ぜんぶでなんこありますか？



しき

こたえ

- ③ みずうみで3わのあひるがあそんでいます。あとから2わきました。ぜんぶでなんわのあひるがあそんでいますか？



しき

こたえ





1けた+1けたの

たしざん

なまえ

がつ

にち

- ① えんそくでおにぎりを5こもっていきました。おともだちが3こくれました。ぜんぶでなんこもっていますか？



しき

こたえ


- ② つみきを4こならべました。さらに2こならべました。ぜんぶでなんこのつみきをならべましたか？



しき

こたえ

- ③ ゆうえんちに2にんならんでいます。あとから2にんきました。ぜんぶでなんにんならんでいますか？



しき

こたえ

