



3

1けた-1けたの

# ひきざん

なまえ

がつ

にち

① おさらに クッキーが 7まい あります。2まい たべました。  
のこりは なんまいですか？



しき

—

=

こたえ

まい

② くるまと ロボットのおもちゃが ぜんぶで 9こ あります。  
そのうち 6こが くるまです。ロボットは なんこですか？



しき

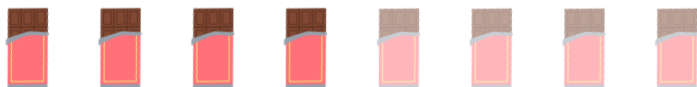
—

=

こたえ

こ

③ チョコレートが 8こ あめが 4こ あります。どちらが なんこ おおいですか？



しき

—

=

こたえ

が

こ おおい





3

1けた-1けたの

# ひきざん

なまえ

がつ

にち

- ① どうぶつえんに ぞうが 9とう いました。3とうは べつの ところへ ひっこしました。  
のこりは なんてうですか？



しき


—

=

こたえ

とう

- ② うさぎと かめが あわせて 6ひき います。  
そのうち 2ひきが うさぎです。かめは なんひきですか？



しき

—

=

こたえ

ひき

- ③ ライオンが 7とう トラが 5とう います。どちらが なんてう おおいですか？



しき

—

=

こたえ

が

とう おおい





3

1けた-1けたの

# ひきざん

なまえ

がつ

にち

- ① バスが8だいあります。2だい しゅっぱつしました。  
のこりはなんだいですか？



しき

— =

こたえ

だい

- ② でんしゃが6りょうとまっています。  
そのうち3りょうがみどりいろのでんしゃです。  
あおいろのでんしゃはなんりょうですか？



しき

— =

こたえ

りょう

- ③ タクシーが6だい くるまが4だいあります。どちらがなんだい おおいですか？



しき

— =

こたえ

が だい おおい





3

1けた-1けたの

# ひきざん

なまえ

がつ

にち

① パンダが9とう います。3とう おへやにもどりました。  
のこりは なんと とう ですか？



しき

—

=

こたえ

② キリンと リスが あわせて 7ひき います。  
そのうち 4ひき が キリン です。リスは なんと ひき ですか？



しき

—

=

こたえ

③ ペンギンが 8わ カラスが 5わ います。どちらが なんと わ おおい ですか？



しき

—

=

こたえ





3

1けた-1けたの

ひきざん

なまえ

がつ

にち


- ① バナナが6ほん あります。2ほん たべました。  
のこりは なんほんですか？



しき

こたえ


- ② みかんと さくらんぼが あわせて9こ あります。  
そのうち5こが みかんです。さくらんぼは なんこ ありますか？



しき

こたえ

- ③ りんごが7こ いちごが3こ あります。どちらが なんこ おおいですか？



しき

こたえ





3

1けた-1けたの

ひきざん

なまえ

がつ

にち


- ① つみきが5つあります。3つかたづけました。  
のこりはいくつですか？



しき

こたえ


- ② ボールが8こあります。  
そのうち6こが あかい ボールです。あおい ボールは なんこですか？



しき

こたえ

- ③ みどり クレヨンが7ほん あおい クレヨンが3ほん あります。どちらが なんほん おおいですか？



しき

こたえ





3

1けた-1けたの

# ひきざん

なまえ

がつ

にち

- ① おべんとうを 10こ もっています。おひるに 3こ たべました。  
のこりは なんこですか？



しき

こたえ


- ② ケーキと おかし あわせて 9こ あります。  
そのうち 4こが ケーキです。おかしは なんこですか？



しき

こたえ

- ③ おにぎりが 7こ パンが 4こ あります。どちらが なんこ おおいですか？



しき

こたえ





3

1けた-1けたの

# ひきざん

なまえ

がつ

にち

① いぬが6ひき います。2ひき おさんぽに いました。  
のこりは なんひきですか？



しき

こたえ


② ねこと くま あわせて 7ひき います。そのうち 5ひきが ねこです。  
くまは なんひきですか？



しき

こたえ

③ とりが 9わ アヒルが 6わ います。どちらが なんわ おおいですか？



しき

こたえ







3

1けた-1けたの

ひきざん

なまえ

がつ

にち

- ① おさがが 5まい あります。3まい あらいました。  
のこりは なんまい ですか？



しき

こたえ


- ② タオルが 8まい あります。  
そのうち 6まいが みどりの タオルです。むらさきの タオルは なんまい ですか？



しき

こたえ

- ③ スプーンが 10ほん フォークが 5ほん あります。どちらが なんほん おおい ですか？



しき

こたえ





3

1けた-1けたの

# ひきざん

なまえ

がつ

にち

① シャボンだまを9こつくりました。4こわれてしまいました。  
のこりはなんこですか？



しき

こたえ


② おべんとうと サンドイッチがぜんぶで7こあります。  
そのうち5こがおべんとうです。サンドイッチはなんこですか？



しき

こたえ

③ こうえんにおとこのこが8にん おんなのこが3にん います。どちらがなんにん おおいですか？



しき

こたえ





3

1けた-1けたの

ひきざん

なまえ

がつ

にち

- ① サッカーボールが6こ あります。3こ かたづけました。  
のこりは なんこですか？



しき

こたえ

- ② グローブと ラケットが ぜんぶで 10こ あります。  
そのうち グローブが 4こ です。ラケットは なんこですか？



しき

こたえ

- ③ バスケットボールが 8こ バレーボールが 7こ あります。どちらが なんこ おおいですか？



しき

こたえ





3

1けた-1けたの

# ひきざん

なまえ

がつ

にち

- ① わたがしを 8こ かいしました。ともだちに 4こ あげました。  
のこりは なんこですか？



しき

こたえ

- ② ヨーヨーが 6こ あります。  
そのうち 3こが あかいろです。あおいろの ヨーヨーは なんこですか？



しき

こたえ

- ③ おまつりでおこのみやきを 4まい たこやきを 2こ かいしました。どちらが いくつ おおいですか？



しき

こたえ





3

1けた-1けたの

# ひきざん

なまえ

がつ

にち

- ① えんぴつが9ほん あります。2ほん ともだちにかしました。  
のこりは なんほんですか？



しき

こたえ

- ② ノートが7さつ あります。  
そのうち 4さつが あかいろです。あおいろの ノートは なんさつですか？



しき

こたえ

- ③ はさみが6ほん カッターが1こ あります。どちらが いくつ おおいですか？



しき

こたえ





3

1けた-1けたの

# ひきざん

なまえ

がつ

にち


- ① カバンが5つあります。2つ こわれてしまいました。  
のこりはいくつですか？



しき

こたえ

- ② ぼうしが8こあります。  
そのうち4こがみどりいろです。きいろのぼうしはなんこですか？



しき

こたえ

- ③ くつしたが7そく てぶくろが3こ あります。どちらが なんこ おおいですか？



しき

こたえ





3

1けた-1けたの

ひきざん

なまえ

がつ

にち

- ① プレゼントが9こ あります。おかあさんに 2こ あげました。  
のこりは なんこですか？



しき

こたえ


- ② おはなが 10ほん さいています。  
そのうち 7ほんが むらさきいろです。オレンジいろのおはなは なんほんですか？



しき

こたえ

- ③ あおいふうせんが 8こ あかいふうせんが 2こ あります。どちらが なんこ おおいですか？



しき

こたえ

