



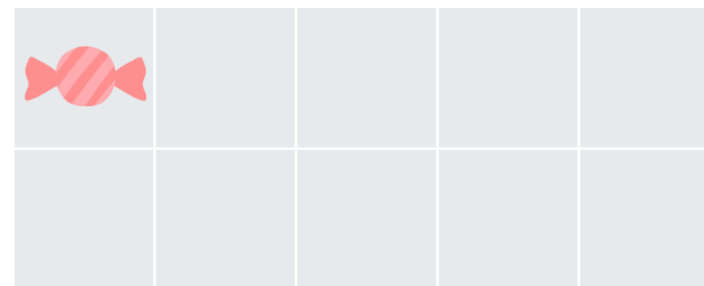
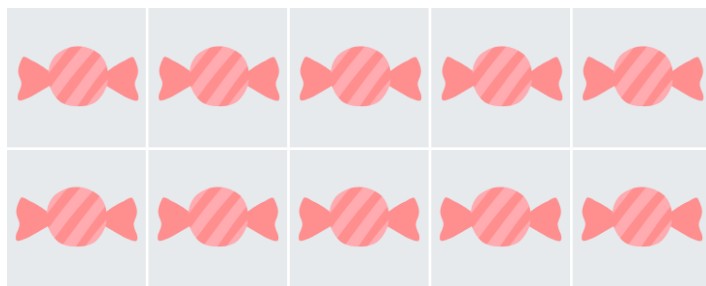
10よりおおきいかず
② たしざん

なまえ

がつ

にち

① おさらにあめが6こあります。つぎのひ5こたしました。あめはぜんぶでなんこありますか？



しき

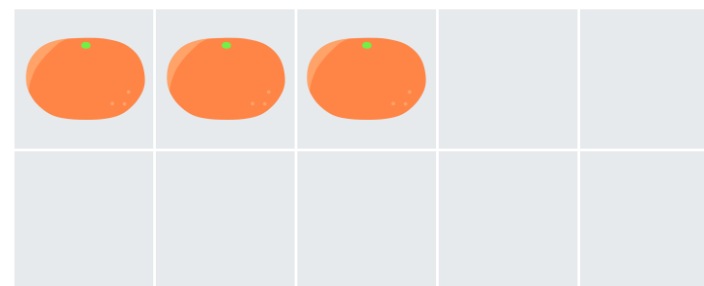
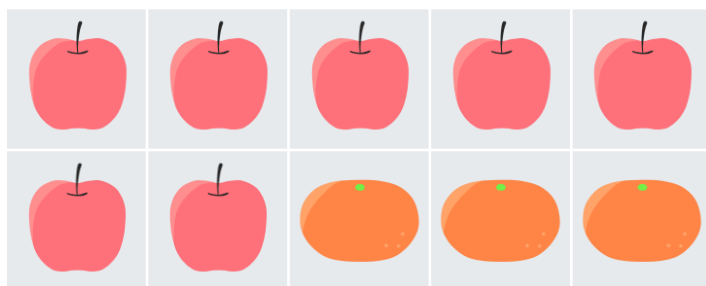
+

=

こたえ

こ

② はこのなかにりんごが7つあります。もうひとつのはこにはみかんが6こはっていました。みかんとりんごあわせてなんこありますか？



しき

+

=

こたえ

こ







10よりおおきいかず
② たしざん

なまえ

がつ

にち

① いぬが8ひき います。そのあと7ひき きました。
ぜんぶで なんびき いますか？



しき

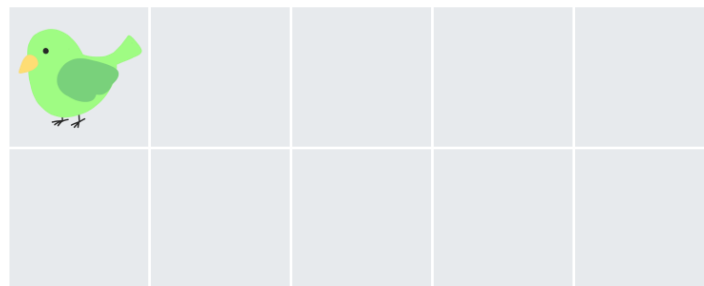

+

=

こたえ

ひき

② そらにあおいとりが9わ とんでいます。とちゅうで2わ みどりいろのとりが とんできました。
ぜんぶで なんわ とんでいますか？



しき

+

=

こたえ

わ







10よりおおきいかず
② たしざん

なまえ

がつ

にち

① はっぱにありが7ひきいます。そのあと6ひききました。
ぜんぶでなんびきいますか？



しき



+

=

こたえ

びき

② つくえのうえにえんぴつが9ほんあります。あかえんぴつを5ほんたしました。
ぜんぶでなんほんありますか？



しき

+

=

こたえ

ほん





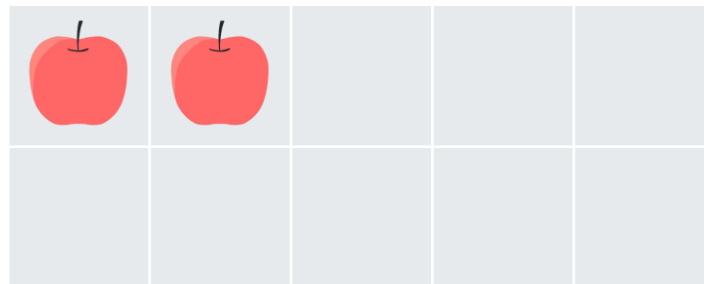
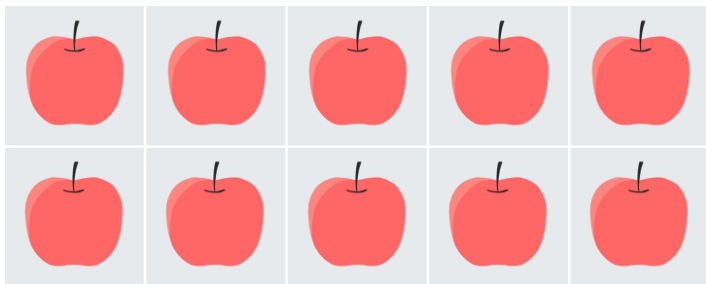
10よりおおきいかず
② たしざん

なまえ

がつ

にち

- ① おさらの うえに りんごが 8つ あります。つぎのひに 4つ たしました。
りんごは ぜんぶで なんこ ありますか？





しき

+

=

こたえ

- ② こうえんにおとこのこが 7にん います。おんなのこ 9にん きました。
あわせて なんにん の こどもが こうえん に いますか？



しき

+

=

こたえ







10よりおおきいかず
② たしざん

なまえ

がつ

にち

- ① はこのなかにおもちゃが9こあります。あたらしく3こかいました。
おもちゃはぜんぶでなんこありますか？





しき

+

=

こたえ

- ② さかなが8ぴきおよいでいます。さらに5ひきおよぎにきました。
あわせてなんびきのさかながおよいでいますか？




しき

+

=

こたえ





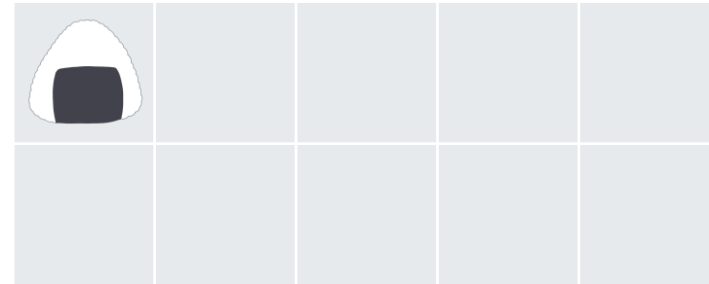
10よりおおきいかず 2 たしざん

なまえ

がつ

にち


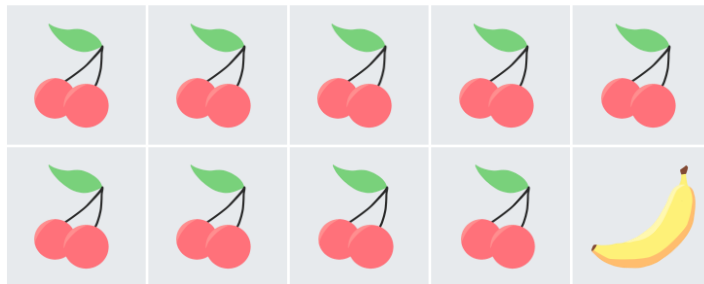
① おにぎりを6つつくりました。さらに5つつくりました。
ぜんぶでなんこつくりましたか？



しき

こたえ

② はこのなかにさくらんぼが9つあります。もうひとつのはこにはバナナが5こはっていました。
さくらんぼとバナナ あわせてなんこありますか？



しき

こたえ





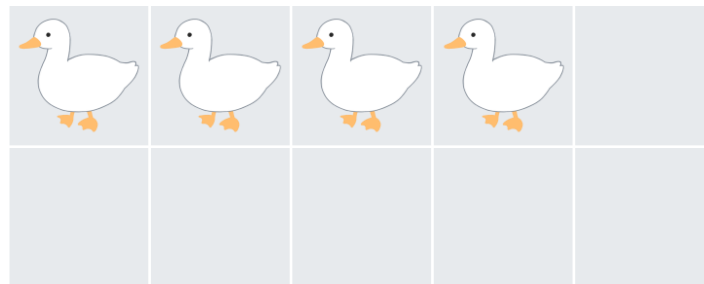

10よりおおきいかず
② たしざん

なまえ

がつ

にち

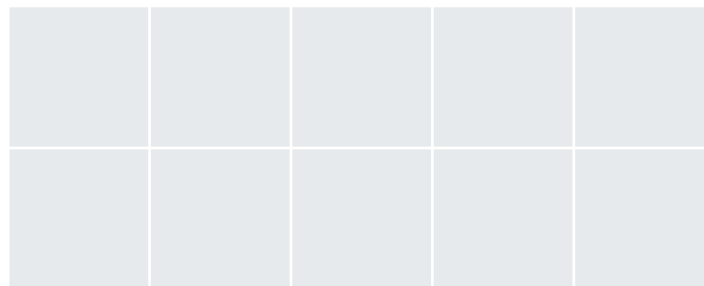
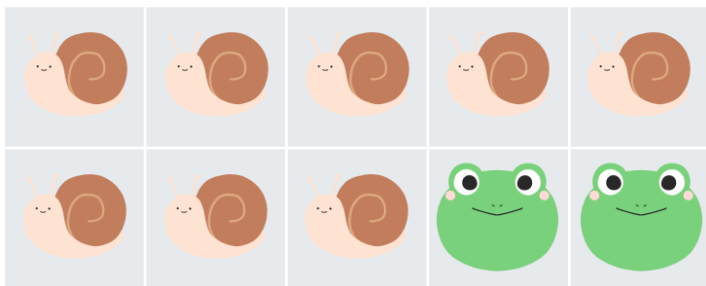
① あひるが7わいます。7わ きました。
ぜんぶでなんわいますか？



しき

こたえ

② はっぱの うえにかたつむりが8ひき います。2ひき カエルが きました。
カタツムリ と カエル あわせて なんびき いますか？



しき

こたえ





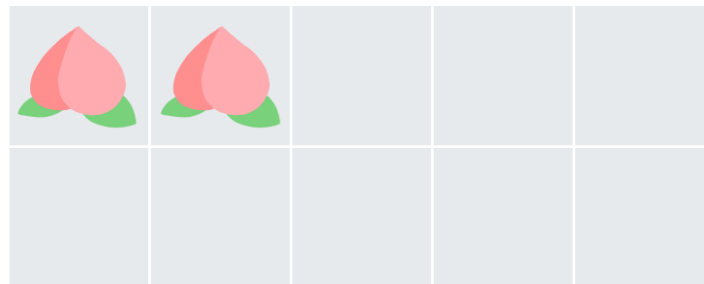
10よりおおきいかず
② たしざん

なまえ

がつ

にち


- ① ももを7つもらいました。おばあちゃんからさらに5つもらいました。
ぜんぶでなんこのももをもっていますか？



しき

こたえ

- ② あおいノートが9さつあります。さらにあかいノートを8さつかいました。
ぜんぶでなんさつのノートがありますか？



しき

こたえ





10よりおおきいかず
② たしざん

なまえ

がつ

にち


- ① けしゴムを 8こ もっています。おみせで 8こ かいしました。
いま なんこ もっていますか？



しき

こたえ

- ② おはなを 10ほん かいしました。おともだちが 7ほん くれました。
ぜんぶで なんほん ありますか？



しき

こたえ





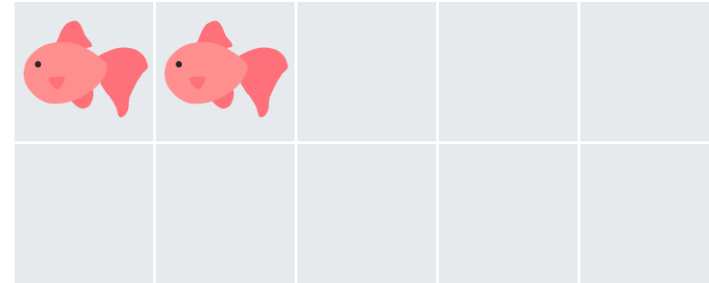

10よりおおきいかず
② たしざん

なまえ

がつ

にち


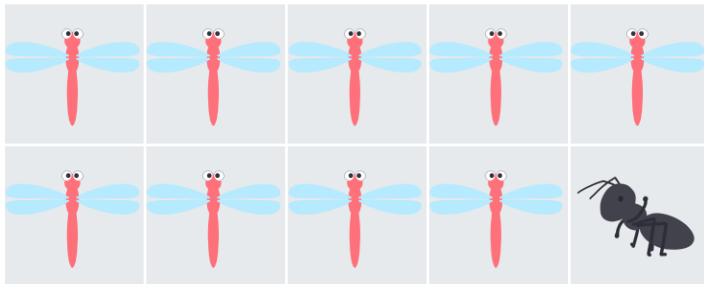
- ① すいそうに きんぎょが 6ひき います。おまつりで きんぎょすくいをおこない 6ひき ふえました。ぜんぶで なんびきの きんぎょが いますか？



しき

こたえ

- ② くさのなかに トンボが 9ひき いました。よくみると ありも 7ひき いました。バッタとありあわせて なんびき いますか？



しき

こたえ





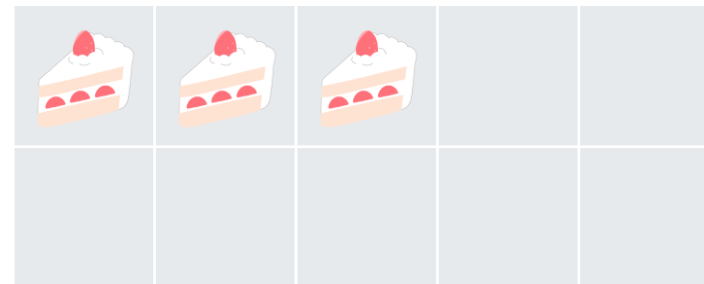

10よりおおきいかず
② たしざん

なまえ

がつ

にち

- ① れいぞうこの なかに ケーキが 9こ あります。さらに 4こ かいました。
ぜんぶで なんこの ケーキが ありますか？



しき

こたえ

- ② じてんしゃが 8だい とまっています。9だいの じてんしゃが とまりました。
あわせて なんだいの じてんしゃが とまっていますか？



しき

こたえ







10よりおおきいかず
② たしざん

なまえ

がつ

にち

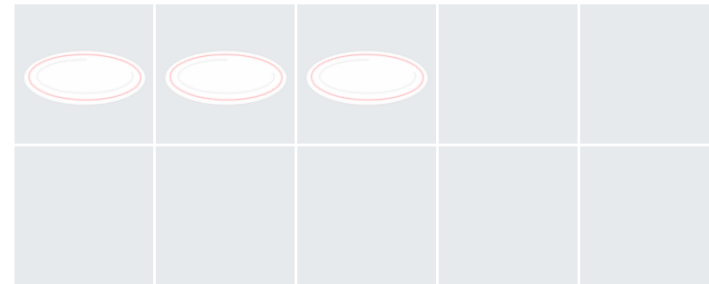
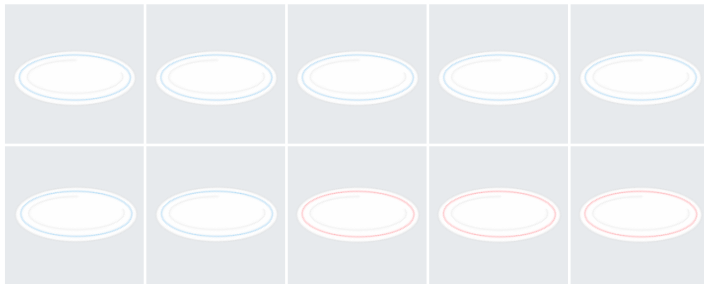
- ① きのうの上にさるが6ひきいます。さらに5ひききました。
ぜんぶでなんびきのさるがいますか？



しき

こたえ

- ② おさらを7まいあらいました。おかあさんにたのまれて6まいつかであらいました。
あわせてなんまいのおさらをあらいましたか？



しき

こたえ







10よりおおきいかず
② たしざん

なまえ

がつ

にち


① カラスが9わいます。3わきました。
ぜんぶでなんわいますか？



しき

こたえ

② としょかんで9さつのほんをかりました。つぎのひに5さつかりました。
あわせてなんさつのほんをかりましたか？



しき

こたえ






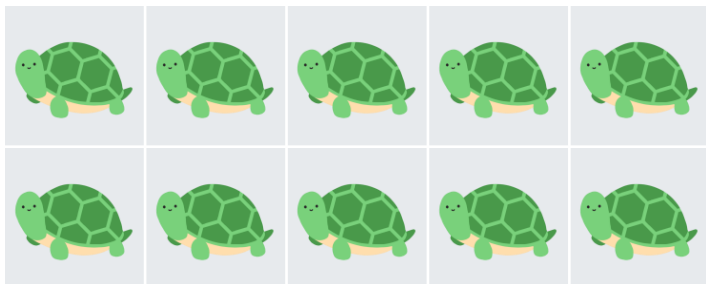
10よりおおきいかず
② たしざん

なまえ

がつ

にち



- ① いけにかめが7ひき います。そこに5ひきのかめがおよいで きました。いけには なんひきのかめが いますか？



しき

こたえ

- ② おみせで おかしを8こ あめを8こ かいました。あわせて なんこ かい ましたか？



しき

こたえ







10よりおおきいかず
② たしざん

なまえ

がつ

にち

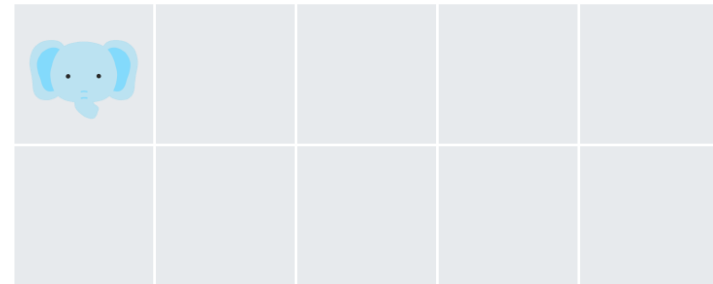

- ① もりに6ぴきのりすがいました。そこに7ひきのりすがきのうえからおりてきました。もりにいるりすはぜんぶでなんびきいますか？



しき

こたえ

- ② どうぶつえんにパンダが6とうぞうが5とういます。パンダとぞうをあわせるとなんとうになりますか？



しき

こたえ

