



- ① おさらに クッキーが7まい あります。2まい たべました。
のこりは なんまいですか？



しき

—

=

こたえ

まい

- ② くるまと ロボットのおもちゃが ぜんぶで9こ あります。
そのうち6こが くるまです。ロボットは なんこですか？



しき

—

=

こたえ

こ

- ③ チョコレートが8こ あめが4こ あります。どちらが なんこ おおいですか？



しき

—

=

こたえ

が

こ おおい





- ① どうぶつえんに ぞうが 9とう いました。3とうは べつの ところへ ひっこしました。
のこりは なんと とうですか？



しき

—

=

こたえ

とう

- ② うさぎと かめが あわせて 6ぴき います。
そのうち 2ひきが うさぎです。かめは なんひきですか？



しき


—

=

こたえ

ひき

- ③ ライオンが 7とう トラが 5とう います。どちらが なんと とう おおいですか？



しき

—

=

こたえ

が

とう おおい





- ① バスが8だい あります。2だい しゅっぱつしました。
のこりは なんだい ですか？



しき

— =

こたえ

だい

- ② でんしゃが6りょう とまっています。
そのうち3りょうが みどりいろの でんしゃです。
あおいろの でんしゃは なんりょう ですか？



しき

— =

こたえ

りょう

- ③ タクシーが6だい くるまが4だい あります。どちらが なんだい おおい ですか？



しき

— =

こたえ

が

だい おおい





- ① パンダが9とう います。3とう おへやに もどりました。
のこりは なんと とう ですか？



しき

—

=

こたえ

- ② キリンと リスが あわせて 7ひき います。
そのうち 4ひきが キリンです。リスは なんひき ですか？



しき

—

=

こたえ

- ③ ペンギンが 8わ カラスが 5わ います。どちらが なんわ おおい ですか？



しき

—

=

こたえ





- ① バナナが6ほん あります。2ほん たべました。
のこりは なんほんですか？




しき

—

=

こたえ

- ② みかんと さくらんぼが あわせて 9こ あります。
そのうち 5こが みかん です。さくらんぼは なんこ ありますか？




しき

—

=

こたえ

- ③ りんごが 7こ いちごが 3こ あります。どちらが なんこ おおいですか？



しき

—

=

こたえ






- ① つみきが5つ あります。3つ かたづけました。
のこりはいくつですか？



しき

こたえ


- ② ボールが8こ あります。
そのうち6こが あかい ボールです。あおい ボールは なんこですか？



しき

こたえ

- ③ みどり クレヨンが7ほん あおい クレヨンが3ほん あります。どちらが なんほん おおいですか？



しき

こたえ





- ① おべんとうを 10こ もっています。おひるに 3こ たべました。
のこりは なんこですか？



しき

こたえ

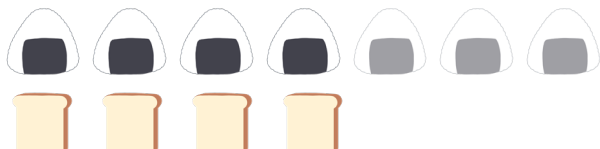
- ② ケーキと おかし あわせて 9こ あります。
そのうち 4こ が ケーキです。おかしは なんこですか？



しき

こたえ

- ③ おにぎりが 7こ パンが 4こ あります。どちらが なんこ おおいですか？



しき

こたえ





- ① いぬが6ひき います。2ひき おさんぽに いました。
のこりは なんひきですか？



しき

こたえ

- ② ねこと くま あわせて 7ひき います。そのうち 5ひきが ねこです。
くまは なんひきですか？



しき

こたえ

- ③ とりが9わ アヒルが6わ います。どちらが なんわ おおいですか？



しき

こたえ





- ① おさがが5まい あります。3まい あらいました。
のこりは なんまいですか？



しき

こたえ


- ② タオルが8まい あります。
そのうち6まいがみどりの タオルです。むらさきの タオルは なんまいですか？



しき

こたえ

- ③ スプーンが10ほん フォークが5ほん あります。どちらが なんほん おおいですか？



しき

こたえ





- ① シャボンだまを 9こ つくりました。4こ われてしまいました。
のこりは なんこですか？



しき

こたえ


- ② おべんとうと サンドイッチが ぜんぶで 7こ あります。
そのうち 5こが おべんとうです。サンドイッチは なんこですか？



しき

こたえ

- ③ こうえんにおとこのこが 8にん おんなのこが 3にん います。どちらが なんにん おおいですか？



しき

こたえ





- ① サッカーボールが6こ あります。3こ かたづけました。
のこりは なんこですか？



しき

こたえ

- ② グローブと ラケットが ぜんぶで 10こ あります。
そのうち グローブが 4こ です。ラケットは なんこですか？



しき

こたえ

- ③ バスケットボールが 8こ バレーボールが 7こ あります。どちらが なんこ おおいですか？



しき

こたえ





- ① わたがしを 8こ かいました。ともだちに 4こ あげました。
のこりは なんこですか？



しき

こたえ

- ② ヨーヨーが 6こ あります。
そのうち 3こが あかいろです。あおいろの ヨーヨーは なんこですか？



しき

こたえ

- ③ おまつりでおこのみやきを 4まい たこやきを 2こ かいました。どちらがいくつ おおいですか？



しき

こたえ





- ① えんぴつが9ほん あります。2ほん ともだちにかしました。
のこりは なんほんですか？



しき

こたえ

- ② ノートが7さつ あります。
そのうち 4さつが あかいろです。あおいろの ノートは なんさつですか？



しき

こたえ

- ③ はさみが6ほん カッターが1こ あります。どちらが いくつ おおいですか？



しき

こたえ






- ① カバンが5つ あります。2つ こわれてしまいました。
のこりはいくつですか？



しき

こたえ

- ② ぼうしが8こ あります。
そのうち4こが みどりいろです。きいろの ぼうしは なんこですか？



しき

こたえ

- ③ くつしたが7そく てぶくろが3こ あります。どちらが なんこ おおいですか？



しき

こたえ






- ① プレゼントが9こ あります。おかあさんに 2こ あげました。
のこりは なんこですか？



しき

こたえ


- ② おはなが 10ほん さいています。
そのうち 7ほんが むらさきいろです。オレンジいろの おはなは なんほんですか？



しき

こたえ

- ③ あおいふうせんが 8こ あかいふうせんが 2こ あります。どちらが なんこ おおいですか？



しき

こたえ

