




- ① すいそうに 16ぴきの さかながいます。7ひきが にげました。
のこりは なんひき ですか？



しき


—

=

こたえ

ひき

- ② イルカが 15とう アシカが 9とう います。どちらが なんとう おおいですか？



しき

—

=

こたえ

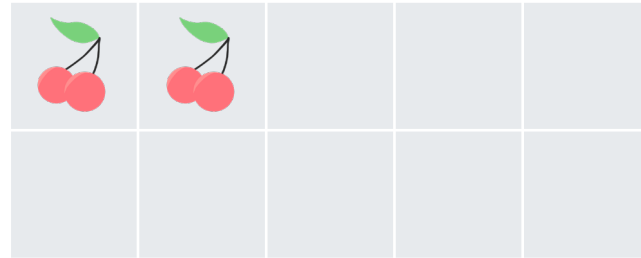
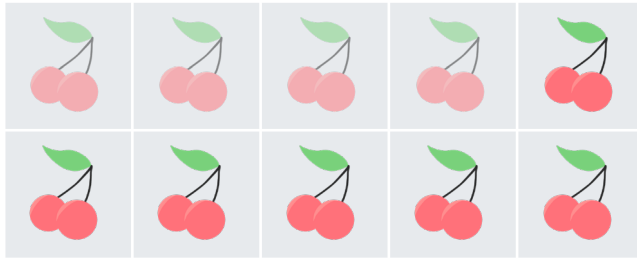
が

とう おおい





- ① さくらんぼが12こ あります。4こ たべました。
のこりは なんこ ですか？



しき

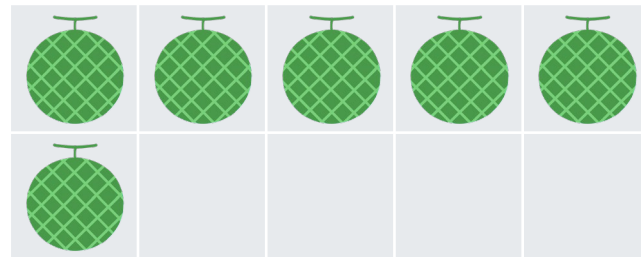

—

=

こたえ

こ

- ② いちごと メロンが ぜんぶで 16こ あります。
そのうち 7こ が いちご です。メロンは なんこ ですか？



しき

—

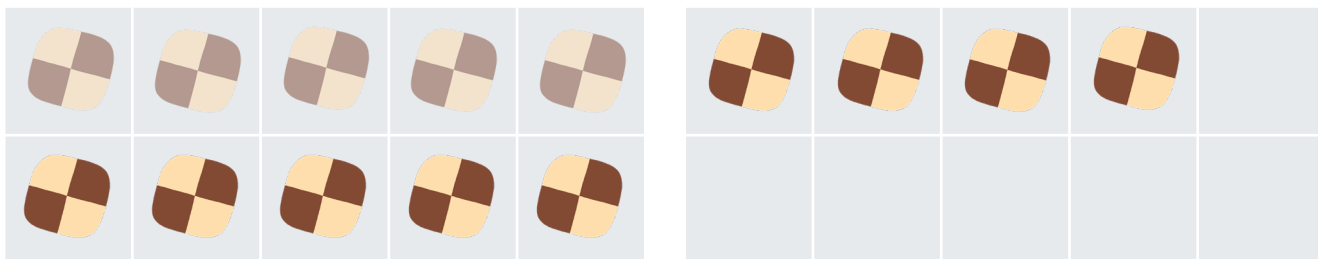
=

こたえ

こ



① クッキーが14まい あります。5まい たべました。
のこりは なんまい ですか？



しき


—

=

こたえ

まい

② チョコレートが12こ あめが7こ あります。どちらが なんこ おおいですか？



しき

—

=

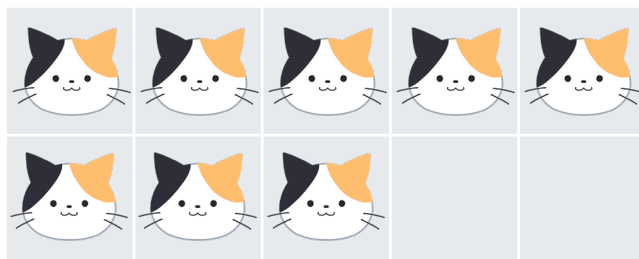
こたえ

が

こ おおい



① ねこが 18ひき います。9ひき さんぽに きました。
のこりは なんひき ですか？



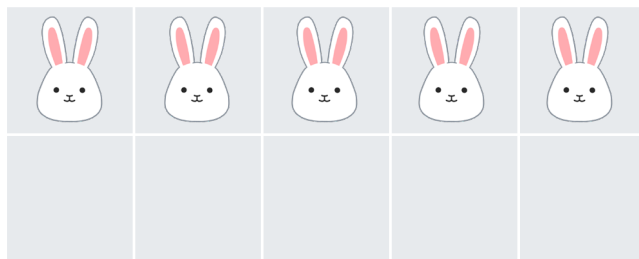
しき

— =

こたえ

ひき

② リスと うさぎが あわせて 15ひき います。
そのうち 9ひき が リスです。うさぎは なんひき ですか？



しき

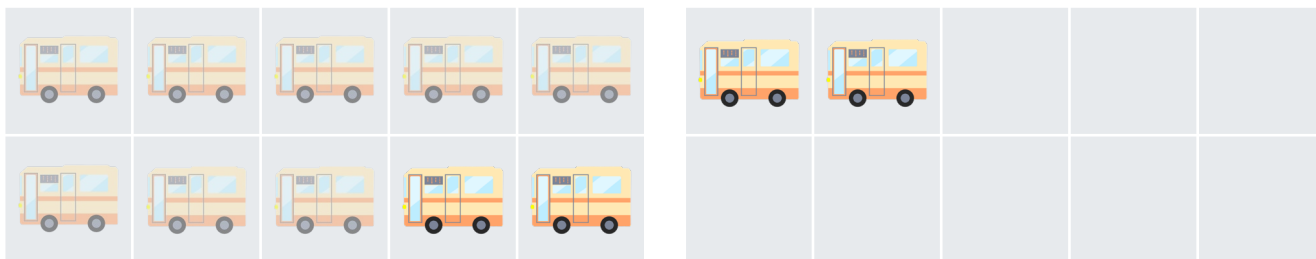
— =

こたえ

ひき



① バスが12だいあります。8だいしゅっぱつしました。
のこりはなんだいですか？



しき

—

=

こたえ

② くるまが15だいじてんしゃが6だいあります。どちらがなんだいおおいですか？



しき


—

=

こたえ



- ① はたけに 19ほんの にんじんがあります。8ぽん ぬきました。
のこりは なんほん ですか？




しき

—

=

こたえ

- ② トマトと ピーマンが ぜんぶで 14こ あります。
そのうち 7こが トマトです。ピーマンは なんこ ですか？



しき

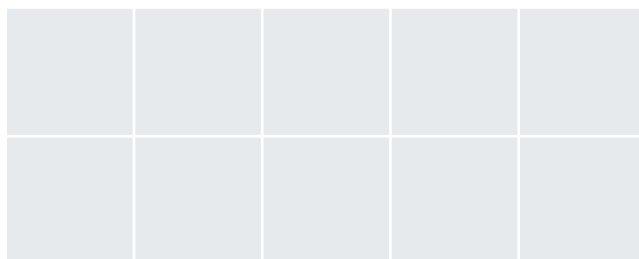

—

=

こたえ




① パンが10こあります。おひるに3こ食べました。
のこりはなんこですか？



しき

こたえ

② サンドイッチが17こ おにぎりが9こあります。どちらがなんこ おおいですか？



しき

こたえ




① こうえんで 15にんのおとこのこがあそんでいます。6にんがかえりました。のこりはなんにんですか？



しき

こたえ

② おべんとうとすいとうがあわせて 18こ あります。そのうち 9こがおべんとうです。すいとうはなんこですか？




しき

こたえ




① がっきやさんに ピアノが 12だいあります。5だい うれました。
のこりは なんだい ですか？



しき

こたえ

② マイクが 10ほん ギターが 5ほん あります。どちらが なんほん おおいですか？



しき

こたえ






- ① ズボンを 17まい あらいました。9まい ほしました。
のこりは なんまい ですか？



しき

こたえ

- ② くつと くつした が あわせて 14そく あります。
そのうち 6そく が くつ です。 くつした は なんそく ですか？



しき

こたえ




- ① ノートを 15さつ もっています。おともだちに 7さつ あげました。
のこりは なんさつ ですか？



しき

こたえ

- ② えんぴつが 13ほん けしごむが 5こ あります。どちらが いくつ おおいですか？




しき

こたえ




- ① はっぱのうえに 16ひきの があります。9ひき えさを さがしに いました。
のこりは なんひき ですか？



しき

こたえ

- ② かぶとむしと くわがたが あわせて 10ひき います。
そのうち 8ひきが かぶとむしです。くわがたは なんひき ですか？




しき

こたえ








① せっけんが 17こ あります。9こ つかいました。
のこりは なんこ ですか？



しき

こたえ

② ほうきが 14ほん モップが 6ほん あります。どちらが なんほん おおいですか？



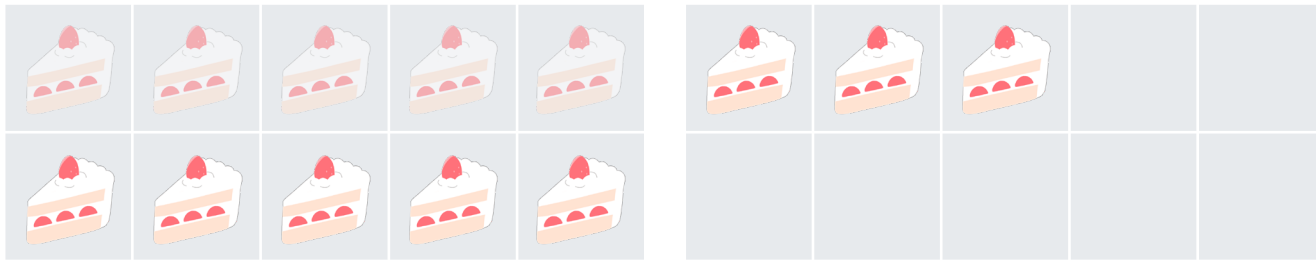
しき

こたえ






- ① おさらに 13こ ケーキがあります。おやつに 5こ たべました。
のこりは なんこ ですか？



しき

こたえ

- ② スプーンと フォークが ぜんぶで 16ほん あります。
そのうち 9ほんが スプーンです。フォークは なんほん ですか？




しき

こたえ




① でんちゅうに 17わの とりが とまっています。9わ とびたちました。
のこりは なんわ ですか？



しき

こたえ

② こうえんに カラスが 16わ アヒルが 8わ います。どちらが なんわ おおいですか？



しき

こたえ

