



2 たしざん

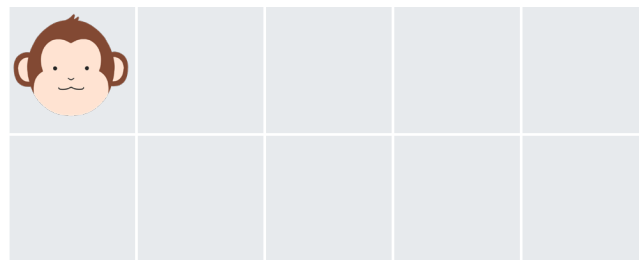

10よりおおきいかず

なまえ

がつ

にち

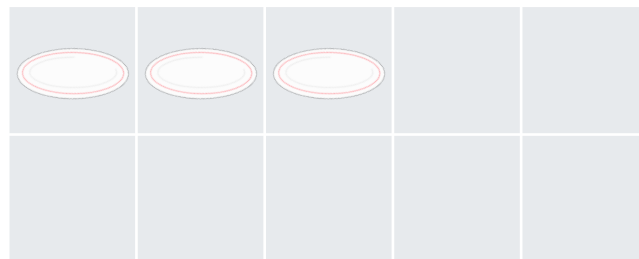
- ① きのうの上にさるが6ぴきいます。さらに5ひききました。
ぜんぶでなんびきのさるがいますか？



しき

こたえ

- ② おさを7まいあらいました。おかあさんにたのまれて6まいつかであらいました。
あわせてなんまいのおさをあらいましたか？



しき

こたえ

