



4

くりさがりのある



ひきざん

なまえ

がつ

にち


- ① でんちゅうに 17わの とりが とまっています。9わ とびたちました。
のこりは なんわ ですか？



しき

こたえ

- ② こうえんに カラスが 16わ アヒルが 8わ います。どちらが なんわ おおいですか？



しき

こたえ

