



ひょう

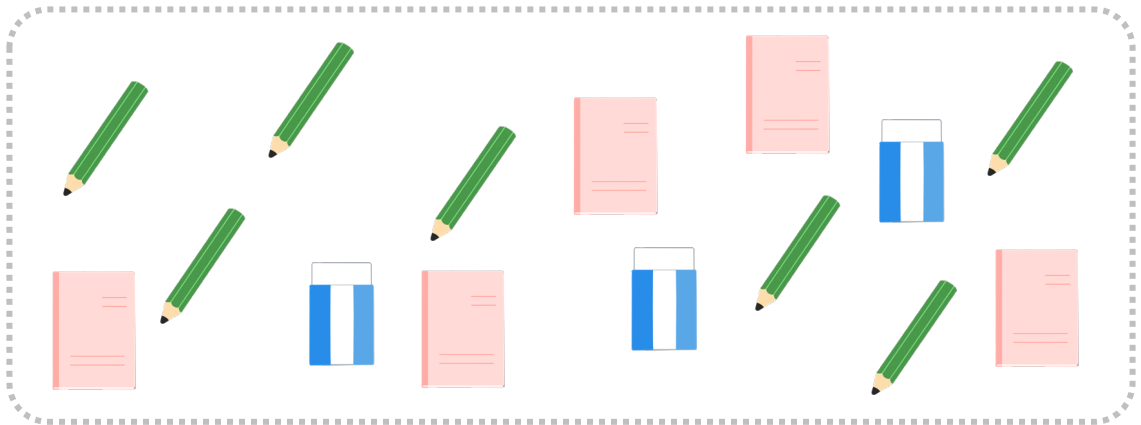
表とグラフ

名前




月

日

かず
数を しらべて、
ひょう
表や グラフにかき、
もんだいに
こた
答えましょう。



しゅるい	えんぴつ	けしごむ	ノート
かず			

① いちばん ^{かず}数が ^{おお}多いのは どれですか。

[]

② けしごむは えんぴつより いくつ ^{すく}少ない ですか。

[]

③ えんぴつと ノートを あわせると いくつに なりますか。

[]

