



に あてはまる ^{かず} 数を ^か 書きましょう。

① $2 \text{ cm} =$ mm

② $5 \text{ cm} =$ mm


③ $8 \text{ cm} =$ mm

④ $30 \text{ mm} =$ cm

⑤ $70 \text{ mm} =$ cm

⑥ $90 \text{ mm} =$ cm





に あてはまる ^{かず} 数を ^か 書きましょう。

① 4 cm = mm

② 9 cm = mm

③ 6 cm = mm

④ 40 mm = cm

⑤ 50 mm = cm

⑥ 100 mm = cm





に あてはまる ^{かず} 数を ^か 書きましょう。

① 1 cm 5 mm = mm

② 2 cm 3 mm = mm


③ 4 cm 7 mm = mm

④ 1 5 mm = cm mm

⑤ 2 6 mm = cm mm

⑥ 3 8 mm = cm mm





に あてはまる ^{かず} 数を ^か 書きましょう。

① 3 cm 8 mm = mm

② 5 cm 2 mm = mm


③ 7 cm 9 mm = mm

④ 4 2 mm = cm mm

⑤ 5 7 mm = cm mm

⑥ 8 9 mm = cm mm





に あてはまる ^{かず} 数を ^か 書きましょう。

① 10 cm = mm

② 2 cm = mm


③ 5 cm = mm

④ 20 mm = cm

⑤ 40 mm = cm

⑥ 80 mm = cm





に あてはまる ^{かず} 数を ^か 書きましょう。

① 1 m = cm

② 2 m = cm


③ 5 m = cm

④ 1 0 0 cm = m

⑤ 3 0 0 cm = m

⑥ 7 0 0 cm = m





に あてはまる ^{かず} 数 を ^か 書 け ます ね。

① 1 m 20 cm = cm

② 1 m 50 cm = cm

③ 2 m 30 cm = cm

④ 120 cm = m cm

⑤ 180 cm = m cm

⑥ 250 cm = m cm





に あてはまる ^{かず} 数を ^か 書きましょう。

① 3 m 4 0 cm = cm

② 4 m 2 5 cm = cm


③ 5 m 8 0 cm = cm

④ 3 4 0 cm = m cm

⑤ 4 2 5 cm = m cm

⑥ 5 8 0 cm = m cm





に あてはまる ^{かず} 数を ^か 書きましょう。

① $2 \text{ cm } 4 \text{ mm} =$ mm

② $5 \text{ cm } 8 \text{ mm} =$ mm


③ $9 \text{ cm } 6 \text{ mm} =$ mm

④ $1 \text{ m } 20 \text{ cm} =$ cm

⑤ $2 \text{ m } 45 \text{ cm} =$ cm

⑥ $3 \text{ m } 75 \text{ cm} =$ cm





に あてはまる ^{かず} 数を ^か 書きましょう。

① 37 mm = cm mm

② 64 mm = cm mm

③ 95 mm = cm mm

④ 145 cm = m cm

⑤ 268 cm = m cm

⑥ 392 cm = m cm

